



**CUADRO DE TAREAS DE 4° A 6°
SEMANA DEL 18 AL 22 DE MARZO**

TAREAS DE 5° "B"				
LUNES	MARTES	MIÉRCOLES	JUEVES	VIERNES
<p><u>MATEMÁTICA</u> TAREA #7 Copia las operaciones del anexo 1 en una hoja de cuadernillo cuadrículada y resuelve cada operación de forma ordenada. ESCRIBE EL PUNTO DECIMAL en las centésimas del multiplicando. En la parte superior de la página escribe un encabezado. (nombre de la institución, materia y tu nombre completo)</p>	<p><u>MATEMÁTICA</u> TAREA #8 Analiza los problemas de la página 69 resuelve en el cuaderno y responde a cada pregunta del problema presentado.</p>	<p><u>COMPU/LABO</u> Práctica # 5 utilizaremos los siguientes materiales: <ul style="list-style-type: none"> • 1 clavo de hierro o acero de 15 cm de largo. • 1 batería cuadrada. • 1 metro de cable de cobre. • 1 caja de alfileres. • 2 clips. </p>	<p><u>SOCIALES</u> TAREA #7 Elabora una ruleta de papel iris o cartulina (material un poco rígido) separa el círculo en 4 partes, en la primera parte escribir el tema "tipos de suelo" en el segundo cuadro Arenoso. características y dibujos que ejemplifiquen cada tipo de suelo. Guiate de la página 54 https://www.youtube.com/watch?v=VMgMwPBa4f4</p>	<p><u>GEOMETRÍA</u> TAREA #3 Marca de color el perímetro de cada figura, luego pega en el cuaderno en orden y escribe la solución para encontrar el perímetro de cada imagen.</p>
<p><u>CIENCIAS</u> TAREA #7 Corta y pega en orden cada imagen del anexo 1 en el cuaderno y completa. Guiatete de la primer imagen.</p>	<p><u>CIENCIAS</u> TAREA #8 Copia las información del anexo 2 y resuelve según la indicación. Ayúdate de la página 38</p>	<p><u>MATEMÁTICA</u> TAREA #9 Resuelve el punto 2 de la página 71 en el cuaderno, luego escribe la respuesta en tu libro.</p>	<p><u>LENGUAJE</u> TAREA #7 <ul style="list-style-type: none"> ★ Escribe en el cuaderno una oración por cada pronombre posesivos del anexo 1 ★ Copia las oraciones en el cuaderno y completa los espacios con </p>	<p><u>LENGUAJE</u> TAREA #8 Copia en el cuaderno las oraciones del anexo 2 y escribe los pronombres demostrativos según lo indica la imagen.</p>



**CUADRO DE TAREAS DE 4° A 6°
SEMANA DEL 18 AL 22 DE MARZO**

			diferente color utilizando pronombres posesivos.	
<p><u>INGLÉS</u> Evaluación hablada.</p> <p>Usando la historia creada en clase de Alicia, pasa al frente y di la historia de memoria.</p>	<p><u>SOCIALES</u> TAREA #6 Escribe en el cuaderno 3 acciones para la conservación y recuperación de las cuencas hidrográficas. Ilustra.</p>	<p><u>ARTÍSTICA</u></p> <p>Traer a la clase los siguientes materiales. Una bolsa de pajillas de muchos colores. Un palillo de pincho Tijera pega Un tapón de bebida Un ojito móvil</p>	<p><u>CIENCIAS</u> TAREA #9 Copia en el cuaderno el problema del anexo 3, luego encuentra la velocidad y la rapidez.</p>	<p><u>SOCIALES</u> ACTIVIDAD #3</p> <p>Elige un río de El Salvador, Investiga los datos acerca de ese río según el punto 3 de la página 53.</p> <p>Debes presentarlo en un cartel con margen, el nombre del río e imágenes de flora y fauna. El cartel no debe tener mucha información.</p> <p>Debes prepararte para explicar cada punto de tu investigación, con voz audible.</p>
<p><u>LENGUAJE</u></p> <p>TAREA #6</p> <p>Elaborar un cuadro en el cuaderno con 3 columnas, en la primera escribe las siguientes palabras. bella, cansada, pálida, divertida, pequeña, caro,</p>	<p><u>CALIGRAFÍA</u></p> <p>Se trabajará en clase.</p>	<p><u>ORTOGRAFÍA</u> TAREA #3 Copia en el cuaderno la información del anexo 1, luego resuelve según se te pide. En la parte 2 colorea la palabra correcta.</p>	<p><u>INGLÉS</u> Completa la página 113 de tu libro</p>	<p><u>LECTURA</u></p> <p>Trabajar la lectura "A mi abuelo" completar las páginas 68 y 69</p>



CUADRO DE TAREAS DE 4° A 6° SEMANA DEL 18 AL 22 DE MARZO

barato, pequeño, malo, caliente. En la segunda columna el superlativo agregando "ísimo" y en la tercera columna superlativo agregando "muy"				Agrega una tira de papel en la parte inferior de la página 67 simulando un sobre. Luego escribe las respuestas de las preguntas interpretando imágenes en una tira de papel. y guarda en el sobrecito.
			MÚSICA Imprimir letra de canción "FELICIDAD"	

MATEMÁTICAS ANEXO 1

GEOMETRÍA ANEXO 1



CUADRO DE TAREAS DE 4° A 6° SEMANA DEL 18 AL 22 DE MARZO

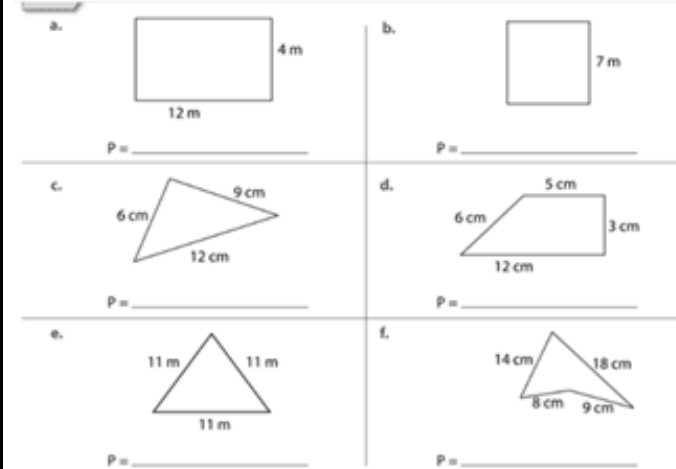
$$\begin{array}{r} 364 \\ \times 85 \\ \hline \end{array}$$
$$\begin{array}{r} 931 \\ \times 37 \\ \hline \end{array}$$
$$\begin{array}{r} 930 \\ \times 26 \\ \hline \end{array}$$
$$\begin{array}{r} 216 \\ \times 68 \\ \hline \end{array}$$
$$\begin{array}{r} 195 \\ \times 47 \\ \hline \end{array}$$

$$\begin{array}{r} 539 \\ \times 41 \\ \hline \end{array}$$
$$\begin{array}{r} 307 \\ \times 21 \\ \hline \end{array}$$
$$\begin{array}{r} 121 \\ \times 75 \\ \hline \end{array}$$
$$\begin{array}{r} 193 \\ \times 98 \\ \hline \end{array}$$
$$\begin{array}{r} 886 \\ \times 46 \\ \hline \end{array}$$

$$\begin{array}{r} 214 \\ \times 36 \\ \hline \end{array}$$
$$\begin{array}{r} 612 \\ \times 78 \\ \hline \end{array}$$
$$\begin{array}{r} 939 \\ \times 77 \\ \hline \end{array}$$
$$\begin{array}{r} 490 \\ \times 41 \\ \hline \end{array}$$
$$\begin{array}{r} 471 \\ \times 64 \\ \hline \end{array}$$

$$\begin{array}{r} 118 \\ \times 74 \\ \hline \end{array}$$
$$\begin{array}{r} 315 \\ \times 71 \\ \hline \end{array}$$
$$\begin{array}{r} 145 \\ \times 60 \\ \hline \end{array}$$
$$\begin{array}{r} 293 \\ \times 50 \\ \hline \end{array}$$
$$\begin{array}{r} 595 \\ \times 77 \\ \hline \end{array}$$

$$\begin{array}{r} 771 \\ \times 45 \\ \hline \end{array}$$
$$\begin{array}{r} 439 \\ \times 58 \\ \hline \end{array}$$
$$\begin{array}{r} 561 \\ \times 49 \\ \hline \end{array}$$
$$\begin{array}{r} 170 \\ \times 56 \\ \hline \end{array}$$
$$\begin{array}{r} 935 \\ \times 63 \\ \hline \end{array}$$



LENGUAJE ANEXO 1

Pronombres posesivos

Aquellas palabras que reemplazan al sustantivo y denotan sentido de posesión.

- Mía.
- Nuestra.
- Suya.
- Tuya.
- Vuestra.

LENGUAJE. ANEXO 2














CUADRO DE TAREAS DE 4° A 6° SEMANA DEL 18 AL 22 DE MARZO

Completa con posesivos diferentes.

- _____ ojos son del color de los _____.
- Deja _____ bici en _____ garaje.
- Leímos _____ redacciones ayer.
- Tengo _____ lápiz en la mesa.
- _____ amigo va a _____ colegio.
- Él me dio _____ teléfono.

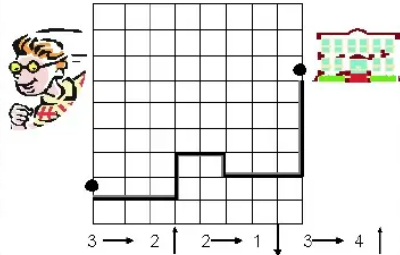
1. Completa las frases con el demostrativo:

1. **Este** disco es de Miguel. 
2. **Aquella** cámara es de Oscar. 
3. **Esos** documentos son importantes. 
4. _____ tijeras son rojas. 
5. _____ ordenador* es viejo. 
6. _____ portátil es nuevo. 
7. _____ calendario es del 2009. 
8. _____ fotos son de mis vacaciones. 
9. _____ gafas son de David. 
10. _____ impresora es nueva. 
11. _____ llave es de la directora. 
12. _____ periódico es viejo. 
13. _____ calendario es del 2011. 
14. _____ discos son de Antonio. 
15. _____ mesa está libre. 
16. _____ libros son de la profesora. 
17. _____ lápiz es corto. 

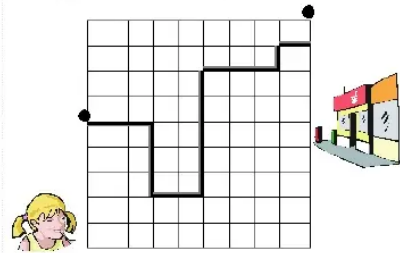


CUADRO DE TAREAS DE 4° A 6° SEMANA DEL 18 AL 22 DE MARZO

- ❑ OBSERVA el recorrido que ha seguido Alfredo para llegar a su colegio.

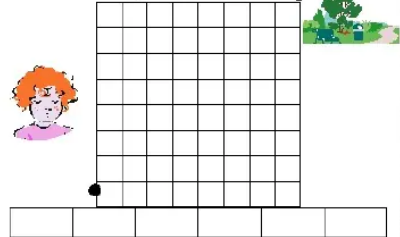


- ❑ DESCRIBO con números y flechas, el desplazamiento de Kelly.



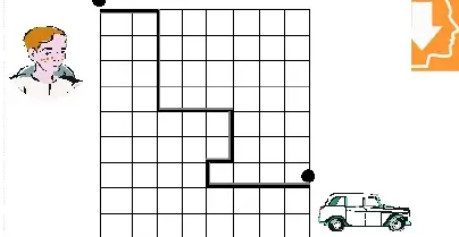
--	--	--	--	--	--	--	--	--	--

- ❑ TRAZO y DESCRIBO un camino para que Fátima llegue al parque.



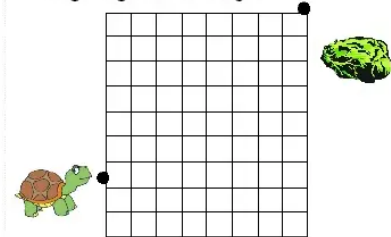
--	--	--	--	--	--	--	--	--	--

- ❑ DESCRIBO con números y flechas el desplazamiento de Juan.



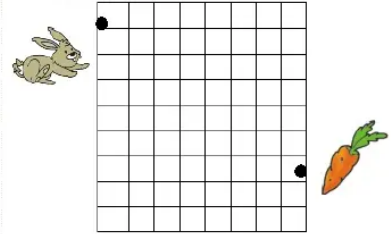
--	--	--	--	--	--	--	--	--	--

- ❑ TRAZO y describo un camino para que la tortuga llegue a la lechuga.



--	--	--	--	--	--	--	--	--	--

- ❑ TRAZO y DESCRIBO un camino para que el conejo llegue pronto a comer su zanahoria.



--	--	--	--	--	--	--	--	--	--

Agudas, graves y esdrújulas

1. Clasifica las siguientes palabras en agudas, graves y esdrújulas.

Capaz	Césped	Símbolo	Temblor	Cerámica	Revolución
Carácter	Ópera	Nació	Ejército	Patean	Sílabas
América	Camarón	Contiene	Débil	Civilización	Volumen

Agudas					
Graves					
Esdrújulas					

2. Selecciona cuál de las palabras de cada pareja está escrita correctamente.

Ademas	Además	Habil	Hábil
Comida	Comída	Balcon	Balcón
Electrico	Eléctrico	Lagrima	Lágrima
Chofer	Chofér	Postre	Póstre
Maleta	Maléta	Televisor	Televisór
Razon	Razón	Magico	Mágico



CUADRO DE TAREAS DE 4° A 6° SEMANA DEL 18 AL 22 DE MARZO

CIENCIAS ANEXO 2

1. Una con una línea según la definición de cada tipo de magnitud

MAGNITUD ESCALAR

Requiere de un módulo, dirección y sentido.

MAGNITUD VECTORIAL

Requiere solo de un módulo

2. Coloque las siguientes magnitudes según su clasificación:

velocidad

tiempo

masa

aceleración

distancia

fuerza

temperatura

desplazamiento

MAGNITUDES ESCALARES

MAGNITUDES VECTORIALES

CIENCIAS ANEXO 3

Problemas resueltos de velocidad y rapidez

1. Una pelota rueda hacia la derecha siguiendo una trayectoria en línea recta de modo que recorre una distancia de 10 m en 5 s. Calcular la velocidad y la rapidez.

Datos: Velocidad	Formula:	Sustitución	Resultado
------------------	----------	-------------	-----------

d=

t=

v=?

Datos: rapidez	Formula:	Sustitución	Resultado
----------------	----------	-------------	-----------

d=

t=

v=?

Dirección: derecha