




**CUADRO DE TAREAS DE 4° A 6°
SEMANA DEL 06 AL 10 DE MAYO**

TAREAS DE 6° "B"				
LUNES	MARTES	MIÉRCOLES	JUEVES	VIERNES
<p><u>COMPU/LABO</u></p> <p>Para el desarrollo de la práctica 9 utilizaremos:</p> <ul style="list-style-type: none"> • Tres monedas • Plastilina • Pajilla que se pueda doblar para formar una "L" • Botella de plástico de la más pequeña • Un guacal alto y grande que pueda caber la botella • Cinta adhesiva • Un clavo de una pulgada y 3 hojas de papel toalla. 	<p><u>MATEMÁTICA</u></p> <p>Realiza las sumas y restas del anexo 1</p>	<p><u>MATEMÁTICA</u></p> <p>Realiza las operaciones del anexo 2</p>	<p><u>SOCIALES</u> <u>CELEBRACIÓN DÍA DE LA MADRE</u></p>	<p><u>CIENCIAS</u></p> 
<p><u>MATEMÁTICA</u></p> <p>Convierte los siguientes números decimales a fracción:</p> <ul style="list-style-type: none"> - 3.2 - 1.75 - 2.4 - 0.25 	<p><u>CIENCIAS</u> TAREA N°1-M</p> <p>Conceptualizar y elaborar un ejemplo ilustrativo en su cuaderno de los tres enlaces químicos:</p> <ul style="list-style-type: none"> - Enlace iónico. - Enlace metálico. - Enlace covalente. 	<p><u>SOCIALES</u> TAREA N°2-M</p> <p>Ilustrar en el cuaderno el mapa de América, luego colorear el país con mayor población de Norteamérica, Centroamérica y Suramérica, escribiendo en detalle su población actual.</p>	<p><u>CIENCIAS</u></p>	<p><u>LENGUAJE</u></p>



**CUADRO DE TAREAS DE 4° A 6°
SEMANA DEL 06 AL 10 DE MAYO**

<ul style="list-style-type: none">- 4.5- 2.7- 0.54- 0.6- 6.24- 8.5		luego escribir y contestar las siguientes interrogantes: 1. ¿Por qué es importante conocer la población de un país? 2. ¿Qué problemas ha traído la densidad poblacional en algunas zonas de América?		
<u>SOCIALES</u> Resolver las págs. 97 y 98 de su libro de texto.	<u>LENGUAJE</u> Trabajar en la portada numero 4 "Comentamos mitos"	<u>LENGUAJE</u> Leer la pág. 94 y 95 del libro de lenguaje. Se trabajará en clase	<u>CALIGRAFÍA</u>	<u>ORTOGRAFÍA</u>
<u>GEOMETRÍA</u> Desarrolla los ejercicios del anexo sobre el cálculo del volumen de cubos y prismas.	<u>LECTURA</u> Se retomará el cartel del reciclaje, indicaciones en classroom	<u>INGLÉS</u> Tarea se publicara en Classroom	<u>INGLÉS</u>	<u>ARTÍSTICA</u>



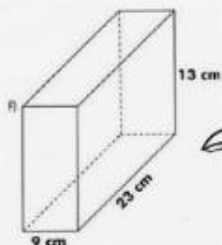
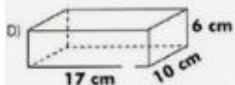
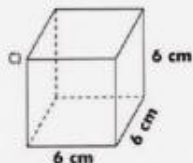
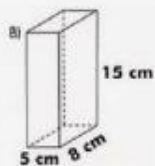
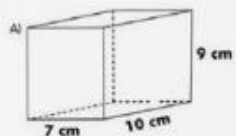
**CUADRO DE TAREAS DE 4° A 6°
SEMANA DEL 06 AL 10 DE MAYO**

Anexo de Geometría	Anexo 1 de matemática	Anexo 2 de matemática
--------------------	-----------------------	-----------------------



CUADRO DE TAREAS DE 4° A 6°
SEMANA DEL 06 AL 10 DE MAYO

Calcula el volumen de las siguientes figuras:



Sumas y restas

A. $4\frac{1}{2} + 0.25 =$

B. $4.5 - 3\frac{1}{3} =$

C. $\frac{2}{3} + 1.20 =$

D. $\frac{3}{4} - 0.6 =$

E. $\frac{3}{2} + 2.2 =$

Operaciones

a) $2.3 - \frac{1}{3} + 1.25 =$

b) $2.5 + \frac{2}{5} - 0.1 =$

c) $0.40 \times 2\frac{1}{3} \div \frac{1}{2} =$

d) $3\frac{1}{2} \times 0.75 =$

e) $\frac{10}{3} \times 1.2 + \frac{3}{5} =$