




**CUADRO DE TAREAS DE 4° A 6°
SEMANA DEL 09 AL 13 DE SEPTIEMBRE**

TAREAS DE 6° "B"				
LUNES	MARTES	MIÉRCOLES	JUEVES	VIERNES
<p><u>COMPU/LABO</u> Materiales a utilizar en la práctica: 4 vasos, 4 hojas de papel toalla, colorantes alimenticios. Para orientarte puedes ver el siguiente video:https://youtu.be/3zUSs3BAayk?si=LYfh13tDyr8zlwM7</p>	<p><u>MATEMÁTICA</u> Resolver el anexo 2 sobre "la suma total"</p> <p>(Recuerda que debes dejar constancia del procedimiento, no se admiten sólo las respuestas)</p>	<p><u>MATEMÁTICA</u> Resolver anexo 3 sobre aplicaciones de la media aritmética</p> <p>(Recuerda que debes dejar constancia del procedimiento, no se admiten sólo las respuestas)</p>	<p><u>SOCIALES</u> TAREA N°2-S Imprimir y pegar en su cuaderno el ANEXO N°1 Crucigrama Segunda Guerra Mundial. Investigar cada una de las interrogantes; luego escribir las respuestas con letra mayúscula utilizando plumones de punta fina de diferentes colores.</p>	<p><u>CIENCIAS</u> TAREA N°3-S Imprimir y pegar en su cuaderno el ANEXO N°2, luego investigar y resolver las interrogantes. NOTA: Colorear la cadena de ADN y las letras de encabezado.</p>
<p><u>MATEMÁTICA</u> Resolver el anexo 1 sobre la media aritmética</p> <p>(Recuerda que debes dejar constancia del procedimiento, no se admiten sólo las respuestas)</p>	<p><u>CIENCIAS</u> TAREA N°1-S En su cuaderno elaborar un mapa conceptual de la estructura del material genético, en el que incluya la relación de los cromosomas, genes y ADN. Ser ordenados, aseados y creativos.</p>	<p><u>SOCIALES</u> TAREA N°1-S Investigar y resolver en su cuaderno las siguientes interrogantes: 1-¿Qué son las luchas sociales y que expresan? 2- ¿Cómo eran los trabajos en el tiempo de 1930? 3- ¿Cuándo fue la lucha de los trabajadores? 4- ¿Cómo era la vida de los trabajadores en 1930? 5- ¿Qué son los movimientos de los trabajadores? <i>Representar con una imagen las luchas sociales de 1930</i></p>	<p><u>CIENCIAS</u> TAREA N°2-S Imprimir y pegar en su cuaderno la sopa de letras, ANEXO N°1 escribir como encabezado "CADENA DE ADN" y resolver con diferentes colores.</p>	<p><u>LENGUAJE</u> Se traerá una parte del periódico mural, cada uno escogerá un tema. (En clase se sorteará)</p>
<p><u>SOCIALES</u></p>	<p><u>LENGUAJE</u> Investigar sobre lo que son las "Fuentes de información"</p>	<p><u>LENGUAJE</u> En una página de papel bond, pegar un recorte de uno de sus programas</p>	<p><u>CALIGRAFÍA</u> Se trabajará en las páginas 68, 69 y 70 de su libreta.</p>	<p><u>ORTOGRAFÍA</u></p>



**CUADRO DE TAREAS DE 4° A 6°
SEMANA DEL 09 AL 13 DE SEPTIEMBRE**

	y en su cuaderno, hacer un resumen.	favoritos y escribir a que tipo o clase pertenece. (Informativo, educativo, infantil o de entretenimiento)		Leer la página 68 “palabras con ble, bundo, bunda y bilidad” y hacer los ejercicios que están en la pág. 69.
<u>GEOMETRÍA</u> Revisión de Unidad 10 hasta pág. 257	<u>LECTURA</u> Leer “El principito” pág. 145 y hacer un resumen de la lectura en un cuarto de papel bond engrapado en su libro. (por favor atender la indicación)	<u>INGLÉS</u> Investigar e ilustrar, o copiar y pegar todos los planetas que componen en sistema solar y agregar su nombre respectivo en inglés	<u>INGLÉS</u> Actividad en clase, no olvidar su cuaderno y libro	<u>ARTÍSTICA</u> Trabajar en una manualidad para decorar el mural de Arte,y nuestro salón alusivo a la celebración del Colegio, todo tendrá que ser celeste y blanco. anexo idea. 



CUADRO DE TAREAS DE 4° A 6° SEMANA DEL 09 AL 13 DE SEPTIEMBRE

Anexo 1 de matemática

Elige la opción que indica la media aritmética de cada serie de datos:

Los litros de agua que bebo un atleta en una semana:
3, 4, 2, 3, 3, 2, 4

- a) 21 b) 3 c) 63

Número de horas que Sebastián juega video juegos en la semana:
4, 5, 3, 5, 3, 4, 5

- a) 4.1 b) 4.2 c) 29

Las notas de Manuel que sacó en el bimestre:
8, 9, 9, 8, 7, 8, 7, 6, 9

- a) 7.8 b) 71 c) 7.7

La estatura en centímetros de 3 amigos:
137, 145, 130

- a) 412 b) 137.3 c) 130.5

Los kilómetros que corre Ian en una semana:
5, 9, 8, 10, 8, 7, 10

- a) 8.1 b) 57 c) 8.5

Las faltas por semana que tiene el grupo de 5° en un mes:
7, 5, 4, 4

- a) 20 b) 5 c) 4.9

Anexo 2 de matemáticas



CUADRO DE TAREAS DE 4° A 6° SEMANA DEL 09 AL 13 DE SEPTIEMBRE

1. La media aritmética de libras de maíz por día que consumen las gallinas de Carlos es 4. ¿Cuál es el total de libras de maíz que consumen en 7 días?
2. La media aritmética de la distancia que recorre cada día Miguel es de 5 km, ¿cuántos kilómetros recorre en 30 días?
3. La media aritmética del ahorro por día de una persona es de \$2, ¿cuánto dinero ahorrará en 10 días?

Anexo 3 de matemáticas

La media de la edad de 4 integrantes de una familia es 15 años. Si la madre tiene 27, el padre 28, y el segundo hijo 2, ¿cuántos años tiene el hijo mayor?

Karla fabrica y vende vestidos a diversas empresas. Por lo general vende una media de 100 vestidos en 4 días. Si al quinto día vende 80 camisas más, ¿Cuál es la nueva media?

ANEXO N°1 CIENCIA

ANEXO N°2 CIENCIA



CUADRO DE TAREAS DE 4° A 6° SEMANA DEL 09 AL 13 DE SEPTIEMBRE

U	E	A	O	F	N	U	C	L	E	O	F	I
U	N	U	C	L	E	O	T	I	D	O	S	A
C	N	C	R	N	A	Z	U	C	A	R	E	O
O	F	R	C	E	L	U	L	A	S	C	A	C
L	A	P	A	I	R	M	N	A	I	T	D	E
U	U	Y	S	E	T	I	M	L	S	U	E	A
C	R	A	B	E	N	O	E	E	O	L	N	C
T	R	R	T	A	S	H	S	T	M	U	I	I
B	I	I	U	O	E	N	A	I	A	A	N	D
E	N	G	M	L	B	F	O	N	N	D	A	O
L	Y	O	B	A	S	D	D	L	A	A	N	I
T	R	O	E	O	C	F	O	L	S	O	I	N
C	D	I	F	R	A	T	I	M	I	N	A	N

Palabras a encontrar:

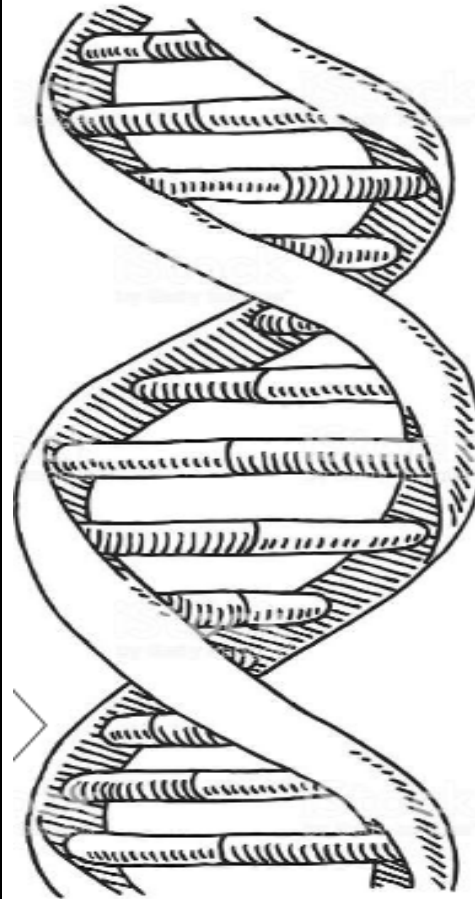
ADN
CROMOSOMAS
ADENINA
TIMINA
CELULA

CITOSINA
GUANINA
NUCLEO
DOBLEHELICE

NUCLEOTIDOS
FOSFATO
ACIDO
AZUCAR

ADN

“Ácido



¿Importancia, función y ubicación del ADN?


¿Importancia, función y ubicación de los Genes?

¿Importancia, función y ubicación de los cromosomas?

Tema: Segunda Guerra Mundial



CUADRO DE TAREAS DE 4° A 6° SEMANA DEL 09 AL 13 DE SEPTIEMBRE



- 01** Ciudad japonesa en la cual fue lanzada la primer bomba atómica.
- 02** Pais donde nace el movimiento fascista de Benito Mussolini.
- 03** Apellido del presidente de EUA durante el inicio de la 2GM.
- 04** Libro en que Adolfo Hitler plasma su ideología.
- 05** Ideología que seguia Alemania Oriental
- 06** Ataque de Japón a base estadounidense que provocó su entrada en la guerra.
- 07** Siglas de la organizacion creada al finalizar la 2GM
- 08** Pais al que invade Alemania dando inicio a la 2GM.
- 09** Politico lider del Reino Unido durante la guerra
- 10** Bloque conformado por paises como Inglaterra, Francia y la URSS
- 11** Batalla en el frente del Este, la que cambio el transcurso de la guerra a favor de la URSS.
- 12** Dirigente Alemán de las organización SS.
- 13** Ideología seguia Alemania Occidental
- 14** Bando formado por Alemania, Italia y Japón.
- 15** Ciudad alemana donde se realizaron los juicios a los perdedores al final de la guerra.